



HABITANTES DE CATAN



O que propomos?

Muitas pessoas vivem na ilha de Catan e cada uma construiu a sua casa na zona que mais gosta. Algumas preferem viver perto da praia, outras rodeadas por campos e algumas gostam mesmo de viver nas montanhas para poder ter uma vista panorâmica de toda a ilha.

Nesta atividade, quatro deles vão nos contar onde vivem e qual a razão de terem escolhido esse lugar, para podermos montar o mapa da ilha seguindo as suas explicações.

O que é necessário?

- Os 19 terrenos hexagonais de um jogo de Catan.
- 4 figuras de aldeia (**vermelha, azul, branca e amarela**).
- Responder às perguntas do parágrafo “**Como foi a partida?**”






ATIVIDADE: HABITANTES DE CATAN

Informação anterior

Antes de começarem esta atividade, separem os terrenos hexagonais por tipo e formem uma pilha com cada um. Há 6 tipos de terrenos em Catan:




Pastos: são planícies onde o gado pode pastar. O gado mais abundante em Catan são as ovelhas. Também é o lugar onde se pode fazer picnics e festas na primavera.




Florestas: as florestas são zonas repletas de árvores e matagais. Lá vivem muitos animais e de lá se extrai a madeira que se usa para fazer portas, mobiliário, além de uma grande variedade de utensílios.




Lavouras: o principal produto agrícola de Catan são os cereais e o trigo é o mais comum de todos. Ele é usado para fazer farinha e, com ela, o pão e muitos outros alimentos.



Colinas: as colinas são elevações do terreno que não chegam a ser uma montanha. Também são chamados de morros. O solo das colinas de Catan é formado por argila, que se usa para fazer tijolos, panelas, vasos e jarros.



Montanhas: as montanhas de Catan não têm vegetação, mas o seu ar é puro e vocês podem encontrar muitos lagos cheios de peixes de água doce. Também são ricas em minerais valiosos.



Deserto: a única extensão de deserto da ilha encontra-se no centro de Catan. A vida lá é dura devido ao calor e à falta de água. Os habitantes da ilha só o atravessam se tiverem muita pressa de ir de um extremo ao outro.

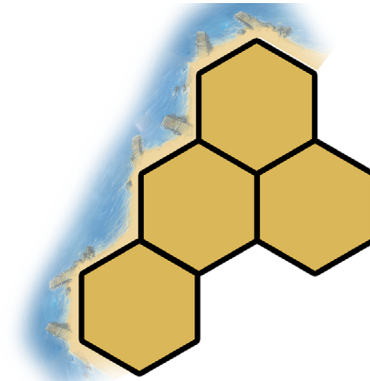


Vamos lá!


Leiam atentamente as descrições dos lugares onde vive cada um dos habitantes de Catan e usem as peças para montar a paisagem explicada. Lembrem-se de que a peça central é o deserto. Coloquem-na no centro da mesa antes de começar a montar a ilha, para que sirva de referência.



1. **Klaus:** sou pastor, mas gosto muito de olhar para a vastidão do mar. Por isso, a minha casa é na costa, entre os pastos. Ela é vermelha e encontra-se numa zona formada por 3 pastos e uma colina. Os 3 pastos estão alinhados um atrás do outro e a casa está entre dois pastos, perto do mar. A uma estrada de distância da minha casa (o lado de um terreno hexagonal), em direção ao interior da ilha, existe uma colina que toca o deserto num dos lados. Os meus vizinhos são o Nicolau e o Mariazinha.

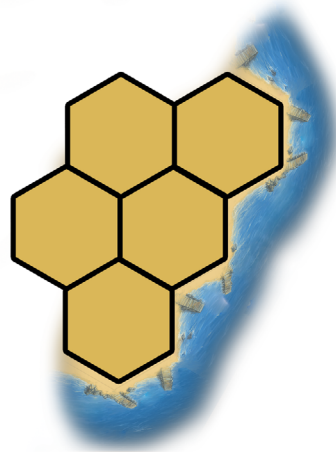


2. **Nicolau:** a minha casa é azul e sou lenhador. A zona onde vivo é formada por 3 florestas e uma lavoura, onde cultivo alguma cevada. A minha casa está situada na junção das 3 florestas. Duas delas estão à beira-mar e a terceira faz fronteira com o deserto. A minha lavoura encontra-se entre duas das minhas florestas e a colina e um dos pastos da Mariazinha. Dois lados da minha lavoura também estão à beira-mar. O Tomás vive nas montanhas, no outro lado da minha zona.





3. **Tomás:** a minha zona é formada por 5 terrenos e, como gosto de escalar, pescar e do ar puro, construí a minha casa no meio de 3 montanhas. Estas 3 montanhas fazem fronteira entre si e estão no centro da minha zona. Há um pasto num dos lados das montanhas e uma floresta no outro. A minha casa é amarela e está no meio das 3 montanhas. Apenas uma delas chega até ao mar, mas não me importo porque não me interessa pelo mar. Prefiro os lagos. Duas das minhas montanhas estão adjacentes ao deserto. A uma estrada de distância da minha casa tenho um pasto adjacente a uma floresta do Nicolau. No outro lado, também a uma estrada de distância, há uma floresta que faz fronteira com uma lavoura da Mariazinha.



4. **Mariazinha:** sou uma fazendeira e cultivo trigo. No inverno, dedico-me à olaria com a argila das colinas que há atrás das minhas lavouras. As minhas 3 lavouras dão para o mar e, pelo interior, fazem fronteira com 2 colinas que estão adjacentes ao deserto. A minha casa é branca e está no meio das 2 lavouras e colina mais perto da zona do Tomás.





Uma vez montada a ilha, verifiquem se seguiram as indicações dos habitantes corretamente comparando-as com esta imagem:



1. A ilha ficou igual à da imagem? Se não, descubram onde se enganaram e montem o mapa correto. Qual dos quatro habitantes acham que vive numa zona melhor?
2. Os mapas são representações à escala de um território. Investiguem o que significa a palavra “escala” e pensem porque é tão importante ao fazer um mapa.
3. Mesmo que só tenhamos falado com 4 habitantes, há muitos mais em Catan. Observem o mapa e coloquem uma casa na zona que gostarem mais. A seguir, escrevam um texto parecido com os do folheto, explicando onde está situada e os motivos da escolha.
4. Se gostaram desta atividade, procurem, na Internet, um mapa geográfico onde se vejam os vales, montanhas e rios da zona onde vivem e tentem reproduzi-lo com as peças de Catan. Se faltar algum elemento, podem criar os próprios terrenos hexagonais desenhando-os e recortando-os.



Nós trabalhamos no quê?

Com esta atividade, trabalhamos principalmente a nossa competência linguística para interpretar corretamente informações escritas ou lidas e a nossa competência matemática para elaborar mapas e representações em duas dimensões. Também aprendemos mais sobre o meio natural ao descobrir paisagens diferentes e o meio social ao explicar o que se pode produzir nelas e as suas aplicações.

